

**Naam:**.....**Groep:**.....


## Handel binnen de Europese Unie Lessuggestie bij de poster

### Opdracht 1 – Invoerrechten

Nederland drijft veel handel met landen die lid zijn van de Europese Unie, maar ook met landen buiten de EU.

Landen die geen lid zijn van de EU moeten aan de grens een geldbedrag betalen als ze producten willen verkopen in de EU. Dit geldbedrag noem je ook wel *invoerrechten*.

Handel binnen de Europese Unie is makkelijker, omdat een EU-land geen *invoerrechten* hoeft te betalen. Daarom is handel binnen de EU goedkoper.



- a. Noem 5 Europese landen die bij de Europese Unie horen. Deze landen hoeven dus geen invoerrechten te betalen.

.....

### Opdracht 2 - Handel

Soms gaat het vervoer van producten over water, soms over de weg.

- a. Kies een EU-lidstaat en schrijf het product op dat daar veel wordt gemaakt:



Land:

Product:

Kies een andere EU-lidstaat om handel mee te drijven:

Land:

Product:

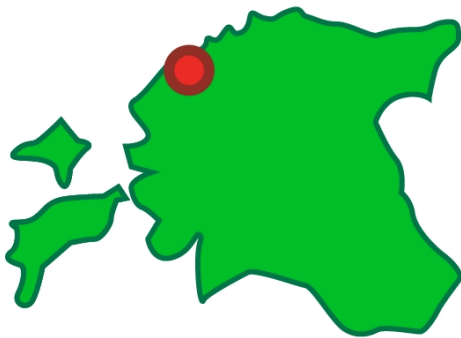
- b. Beschrijf langs welke route het product van het ene land naar het andere land kan worden vervoerd. Schrijf op door welke landen de vrachtwagens rijden en/of langs welke landen de schepen gaan.

.....

**Naam:**.....**Groep:**.....

**Handel binnen de Europese Unie**  
**Lessuggestie bij de poster**

c. Welk land zie je hieronder? .....



d. Welk product verkoopt dit land veel?

.....

e. Zoek op in de atlas welk klimaat en landschap dit land heeft.


.....

f. Wat hebben het klimaat en het landschap te maken met het handelsproduct?

.....

g. Noem nóg een land waar het klimaat en het landschap belangrijk zijn voor het product.

.....



i. Voor welk land is het product dat je hiernaast ziet een belangrijk handelsproduct?

.....

Nederland koopt veel van dit product.

j. Beschrijf 2 mogelijke handelsroutes van dit land naar Nederland.  
En teken ze in op de kaart van Europa.

.....

**Naam:**.....**Groep:**.....

## **Handel binnen de Europese Unie** **Lessuggestie bij de poster**

### Opdracht 3 – Internet zoekopdracht

Kijk op [www.minbuza.nl](http://www.minbuza.nl). Klik op 'Europese samenwerking' en daarna op 'EU-lidstaten'.

Kies één van de 27 EU-lidstaten en zoek bij de 'feiten en cijfers' naar de invoer.

Welke producten voert het land vooral in?

Met welke landen drijft dit land vooral handel? Zoek naar 'belangrijkste partners'.

Zijn deze landen wel of geen lid van de Europese Unie?

**Naam:.....Groep:.....**

## Handel binnen de Europese Unie Lessuggestie bij de poster

# Europa

